



Instituto Privado
Colegio Manuel Belgrano
Maristas
A-21 D.E. N° 10

CUADERNILLO DE MATEMÁTICA

1º grado 2018

NOMBRE DEL ALUMNO

UN DÍA EN LA GRANJA

1. EN LA GRANJA, HAY ESTANTES PARA GUARDAR LOS ZAPATOS ANTES DE ENTRAR. LOS ESTANTES ESTÁN NUMERADOS, PERO SE CAYERON ALGUNOS DE LOS CARTELITOS CON LOS NÚMEROS. UBICALOS EN SUS LUGARES.

0	1	2	3	4	5	6	7	8	9
10	11	12	13	14	15	16	17	18	19
20	21	22	23	24	25	26	27	28	29
30	31	32	33	34	35	36	37	38	39
40	41	42	43	44	45	46	47	48	49
50	51	52	53	54	55	56	57	58	59
60	61	62	63	64	65	66	67	68	69
70	71	72	73	74	75	76	77	78	79
80	81	82	83	84	85	86	87	88	89
90	91	92	93	94	95	96	97	98	99

2. MIRÁ EL CUADRO Y COMPLETÁ:

LOS NÚMEROS QUE CORRESPONDEN A LA FAMILIA DEL 70:


EL NÚMERO ANTERIOR A 99 ES: _____

EL NÚMERO QUE ESTÁ ENTRE EL 22 Y EL 24 ES: _____

ESCRIBÍ TODOS LOS NÚMEROS QUE TERMINAN EN 3:

3. SUMÁ Y LUEGO COLOREÁ SIGUIENDO LAS INDICACIONES:


- 5: ROJO
- 6: VERDE
- 7: MARRÓN
- 8: CELESTE
- 9: NARANJA
- 10: AMARILLO
- 11: GRIS
- 12: ROSA



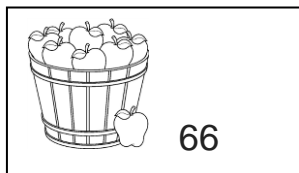
4. COMPLETO PARA CADA UNO DE LOS NÚMEROS, COLOCÁ EL ANTERIOR Y EL SIGUIENTE.

RESTO 1	NÚMERO	SUMO 1
	28	
	76	
	45	
	19	


4. UNO CON FLECHAS SEGÚN CORRESPONDA



$$50 + 9$$



$$90 + 5$$



$$60 + 6$$

5. LEÉ Y RESOLVÉ. RECORDÁ ESCRIBIR EL CÁLCULO Y LA RESPUESTA COMPLETA.

- MARGARITA VISITÓ LA GRANJA Y VIO QUE HABÍA 12 CERDITOS EN UN LUGAR Y 24 EN EL OTRO ¿CUÁNTOS CERDITOS HABÍA EN TOTAL?

SOLUCIÓN:

RESPUESTA: _____

- EL SEÑOR DE LA GRANJA JUNTÓ 23 HUEVOS POR LA MAÑANA Y 31 POR LA TARDE ¿CUÁNTOS HUEVOS JUNTÓ EN TOTAL?

SOLUCIÓN:

RESPUESTA: _____

- EN LA GRANJA HAY MUCHOS MANZANOS. MARGARITA RECOLECTÓ 42 MANZANAS Y SU NIETITA JUNTÓ OTRAS 15 ¿CUÁNTAS MANZANAS JUNTARON ENTRE LAS 2?

SOLUCIÓN:

RESPUESTA: _____
